



# İSG TÜRKİYE SINAV

MAYIS 2025

GAZİ ÜNİVERSİTESİ İSG SINAVLARI

HER DÖNEM TÜM TÜRKİYE 1. İERİNİN TEK ADRESİ

## İSG TÜRKİYE SINAV KAZANDIRIR !

**İŞ SAĞLIĞI VE GÜVENLİĞİ**  
**A-B-C**  
**SINAVLARINDA Kİ**  
**GELMİŞ-GEÇMİŞ**  
**EN BÜYÜK BAŞARI !**

T.C. Kimlik Numarası	
Adı ve Soyadı	CEM ÖZBAY
Sertifika Alanı	B Sınıfı İş Sağlığı ve Güvenliği Uzmanlığı
Sınav Tarihi	10 Aralık 2023
Sonuç Açıklama Tarihi	3 Ocak 2024
TESTTEKİ DOĞRU VE YANLIŞ SAYILARI	
Doğru	Yanlış
48	2
SINAV PUANI VE BAŞARI SIRASI	
Puan	86,66666666666667
Başarı Sırası	1
Alınan Sıra	6. SIRA

TIKLAYARAK  
İZLEYEBİLİRSİNİZ !

**50 SORUDA**  
**48 DOĞRU !**




## TÜRKİYE 1. Sİ KURSIYERLERİMİZ



**C SINIFI TÜRKİYE 1.Sİ**



**C SINIFI TÜRKİYE 1.Sİ**



**C SINIFI TÜRKİYE 1.Sİ**



**C SINIFI TÜRKİYE 1.Sİ**



[www.isgturkiyesinav.com](http://www.isgturkiyesinav.com)

## TÜRKİYE 1. Sİ KURSIYERLERİMİZ



**C SINIFI TÜRKİYE 1.Sİ**



**B SINIFI TÜRKİYE 1.Sİ**



**A SINIFI TÜRKİYE 1.Sİ**



[www.isgturkiyesinav.com](http://www.isgturkiyesinav.com)

## TÜRKİYE 1. Sİ KURSIYERLERİMİZ



**DSP TÜRKİYE 1.Sİ**



**İŞYERİ HEKİMİ  
TÜRKİYE 2.Sİ**



**İŞYERİ HEKİMİ  
TÜRKİYE 2.Sİ**



[www.isgturkiyesinav.com](http://www.isgturkiyesinav.com)

## 2023 MAYIS DÖNEMİ TÜRKİYE 1. Sİ KURSIYERLERİMİZ



**C SINIFI TÜRKİYE 1.Sİ**



**B SINIFI TÜRKİYE 1.Sİ**



**A SINIFI TÜRKİYE 1.Sİ**



[www.isgturkiyesinav.com](http://www.isgturkiyesinav.com)

**A sınıfı İGU - MUHAMMED NURULLAH ACAR**



**ÖSYM**

2024/2 İş Sağlığı ve Güvenliği Genel Müdürlüğü İş Yeri Hekimliği ve İş Güvenliği Uzmanlığı Sınavı (İSG) Sonuçları

		T.C. Kimlik Numarası	[REDACTED]
	Adı ve Soyadı	OMER SOLAK	
	Sertifika Alanı	A Sınıfı İş Güvenliği Uzmanlığı	
	Sınav Tarihi	8 Aralık 2024	
	Sonuç Açıklama Tarihi	3 Ocak 2025	

TESTTEKİ DOĞRU VE YANLIŞ SAYILARI	
Doğru	Yanlış
45	5

SINAV PUANI VE BAŞARI SIRASI		
Puan	Başarı Sırası	Aday Sayısı
90,00000	1	3.020

**A sınıfı Türkiye 1.'si Olan Kursiyerimizin Tavsiyeleri=**  
<https://www.youtube.com/watch?v=m6eiF54Djpo&t=1261s>

**ÖSYM**

2024/2 İş Sağlığı ve Güvenliği Genel Müdürlüğü İş Yeri Hekimliği ve İş Güvenliği Uzmanlığı Sınavı (İSG) Sonuçları

		T.C. Kimlik Numarası	[REDACTED]
	Adı ve Soyadı	RECEP GUÇLU	
	Sertifika Alanı	B Sınıfı İş Güvenliği Uzmanlığı	
	Sınav Tarihi	8 Aralık 2024	
	Sonuç Açıklama Tarihi	3 Ocak 2025	

TESTTEKİ DOĞRU VE YANLIŞ SAYILARI	
Doğru	Yanlış
45	5

SINAV PUANI VE BAŞARI SIRASI		
Puan	Başarı Sırası	Aday Sayısı
90,00000	1	6.785

**B sınıfı Türkiye 1.'si Olan Kursiyerimizin Tavsiyeleri=**  
<https://www.youtube.com/watch?v=fq-4Qu2SbxE&t=6s>

**ÖSYM**

2024/2 İş Sağlığı ve Güvenliği Genel Müdürlüğü İş Yeri Hekimliği ve İş Güvenliği Uzmanlığı Sınavı (İSG) Sonuçları

		T.C. Kimlik Numarası	[REDACTED]
	Adı ve Soyadı	NİMET KÖSE	
	Sertifika Alanı	C Sınıfı İş Güvenliği Uzmanlığı	
	Sınav Tarihi	8 Aralık 2024	
	Sonuç Açıklama Tarihi	3 Ocak 2025	

TESTTEKİ DOĞRU VE YANLIŞ SAYILARI	
Doğru	Yanlış
44	6

SINAV PUANI VE BAŞARI SIRASI		
Puan	Başarı Sırası	Aday Sayısı
88,00000	1	13.673

**C sınıfı Türkiye 1.'si Olan Kursiyerimizin Tavsiyeleri=**  
[https://www.youtube.com/watch?v=85qyps6cw\\_o](https://www.youtube.com/watch?v=85qyps6cw_o)





İSG TÜRKİYE SINAV

MAYIS 2025

GAZİ ÜNİVERSİTESİ İSG SINAVLARI



2025 MAYIS İSG SINAVLARINI

GAZİ ÜNİVERSİTESİ

DÜZENLEYECEKTİR.

**2025 MAYIS SINAVI DERECE KAMPİ**

**RİSK ALMAYIN SINAVI**

**TEK SEFERDE KAZANIN**

**KAYIT VE BİLGİ**

0530 121 11 35  
0531 541 34 34  
0533 013 86 93

**DR. HAKAN ERDOĞAN**  
A SINIFI İGU

**M. NURULLAH ACAR**  
A SINIFI İGU

**TAMER YENİEL**  
A SINIFI İGU

**DR. HASAN DEMİRCİ**  
İŞYERİ HEKİMİ

**MERYEM GÖRGÜN KURAN**  
B SINIFI İGU

20-00  
22-00

TARİH  
15 ŞUBAT  
1 MAYIS

SAAT

www.isgdercecampi.com

A sınıfı İGU - MUHAMMED NURULLAH ACAR

## EL ALETLERİ

1-

Çivi sökmek veya çıkarmak için kullanılır. Çivi çıkarmak, ince tel ve çivileri, tel uçlarını burarak bağlamak ve kesmek için;

**KULLANILAN EL ALETİ HANGİSİDİR?**

KERPETEN

İTİCİ



2-

Çalışma tezgahına monte edilen, parçaları işlerken (eğelerken vs) sabit tutturmak ve sıkıştırmada **KULLANILAN EL ALETİ HANGİSİDİR?**

KUMPAS

MENGENE



3-

Parçaları Tutma ve ulaşılması zor alanlara ulaştırmak için **KULLANILAN EL ALETİ HANGİSİDİR?**


( ) PENSE ( ) KARGA BURUN



4-

2 ya da daha çok malzemeyi birleştirmek için kullanılan bağlantı elemanıdır. Vida gibi üzerinde diş yoktur malzeme ile birleşir. **KULLANILAN EL ALETİ HANGİSİDİR?**

(•) PERÇİN ( ) KAMA





Dişli çark, kasnak, kavrama, vb. kısaca makine elemanlarının millerle sökülebilir şekilde birleştirilmesine yarayan makine elemanlarıdır. Ayrıca çekiç deliğine(gözüne) takılmış sapın yerinden çıkmasını önleyen parçaya da kama denir.



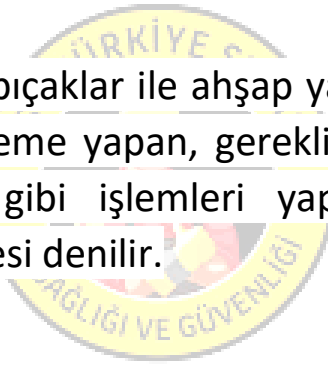
5-

Parça imalatında uzunluk ölçmenin yanı sıra iç çap, dış çap ve derinlik ölçmede **KULLANILAN EL ALETİ HANGİSİDİR?**

( ) KUMPAS ( ) PLANYA



Kesici bıçaklar ile ahşap ya da ağaçtan talaş denilen parçalar keserek rendeleme yapan, gerekli görüldüğünde cumba ve yüz açma, yüzey açma gibi işlemleri yapmak için tasarlanmış makinelere planya makinesi denilir.



**TÜRKİYE SINAV**  
Türkiye'nin En Çok İSG Kitabı Satan Mağazası

6-

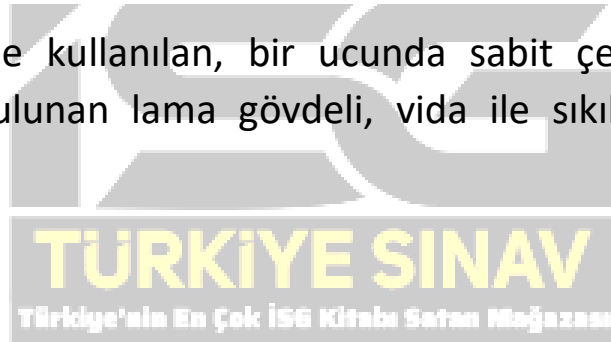

Sıkma ve bağlama işlerinde kullanılan, bir ucunda sabit çene ve üzerinde hareketli çene bulunan lama gövdeli, vida ile sıkılan ve ayarlanabilir, KULLANILAN EL ALETİ HANGİSİDİR?

( ) MENGENE ( ) İŞKENCE



Marangozlukta, işlenecek parçayı sıkıştırmaya yarayan ve üzerinde vidalı sıkma düzeni bulunan çeşitli el aletleridir. İşkenceler doğramacıların, marangozların, mobilyacıların en önemli aletlerindedir.

Sıkma ve bağlama işlerinde kullanılan, bir ucunda sabit çene ve üzerinde hareketli çene bulunan lama gövdeli, vida ile sıkılan ve ayarlanabilen, EL ALETİ.





7-

Devrelerin, elektronik elemanların birbirine lehimlemesinde kullanılan önemli bir elemandır. Mekanik bir el aleti değildir, elektrikle çalışır. **KULLANILAN EL ALETİ HANGİSİDİR?**

( ) HAVYA ( ) RONDELA



8-

Cıvata veya saplama ile beraber kullanılan, ana sökülebilir bağlantı elemanlarından biridir. Temel olarak, ortasında kılavuz çekilmiş bir delik olan basit bir parçadır. **KULLANILAN EL ALETİ HANGİSİDİR?**



( ) CIVATA ( ) SOMUN



9-

Odun yapmakta, odun kırmakta kullanılan, sapı kısa, keskin yanı geniş, arkası tokmak biçiminde küçük bir baltaya benzer. **KULLANILAN EL ALETİ HANGİSİDİR?**

( ) KESER ( ) NACAK


<b>KESER</b>		Ağaç, tahta yontmaya, çivi çakmaya ya da sökmeye yarayan, kısa ağaç saplı, bir yanı keskin ağızlı, bir yanı çivi çakmaya uygun, çelik el aletidir. Aynı zamanda kesicidir.
<b>NACAK</b>		Odun yapmakta, odun kırmakta kullanılan, sapı kısa, keskin yanı geniş, arkası tokmak biçiminde küçük bir baltaya benzeyen el aletidir



10-

Kesici bıçaklar ile ahşap ya da ağaçtan talaş denilen parçalar keserek rendeleme yapan, gerekli görüldüğünde cumba ve yüz açma, yüzey açma gibi işlemleri yapmak için tasarlanmış makinedir. **KULLANILAN EL ALETİ HANGİSİDİR?**

( ) PLANYA ( ) MENGENE

<p><b>PLANYA</b></p> 	<p>Kesici bıçaklar ile ahşap ya da ağaçtan talaş denilen parçalar keserek rendeleme yapan, gerekli görüldüğünde cumba ve yüz açma, yüzey açma gibi işlemleri yapmak için tasarlanmış makinelere planya makinesi denilir.</p>
--	--

**EĞE:**

Düz ve çok eğri olmayan kanallarda kullanılabilirler. Kesici kabiliyeti çok iyi bir şekilde arttırılmıştır.



**CEVAPLAR**

1.	A
2.	B
3.	B
4.	A
5.	A
6.	B
7.	A
8.	B
9.	B
10.	A

